


# ПОРАХУЙ ФІГУРИ

## ЗАВДАННЯ 01






Порахуй спочатку фігури кожного кольору, з яких складається ракета. Отриманий результат запиши таблиці T1...T3.




Потім порахуй фігури різної форми, не зважаючи на їх колір. Відповідь запиши до таблиці T4.

**Перевір себе:** загальна кількість фігур у таблицях T1...T3 та таблиці T4 має збігатися.





**T1**

**T2**

**T3**

**T4**

